

多摩大学附属聖ヶ丘中学校

2017 年度入試問題

社 会

第5回（2月5日実施）



2017 年度

入学試験問題

(2月5日午前)

社 会

多摩大学附属聖ヶ丘中学校

- 1 開始の合図があるまで問題用紙・解答用紙にふれないでください。
- 2 開始の合図があったら、最初に問題用紙8ページと別紙1枚、解答用紙1枚を確認してください。
- 3 解答用紙に受験番号と氏名を記入してから始めてください。
- 4 問題についての質問は受け付けません。印刷のはっきりしないところや用事がある時は声を出さずに手をあげてください。
- 5 文字は正確に、いねいに書いてください。
- 6 問題用紙は回収しません。
- 7 筆記用具の貸し借りはしないでください。
- 8 試験時間は理科・社会あわせて50分です。終了5分前になったら知らせます。どちらから先に解答してもかまいません。
- 9 答案を書き終わっても座席からはなれないでください。

1

次の文章を読み、あとの問いに答えなさい。

日本に本格的な西洋の文化が入ってきたのは16世紀のなかば、戦国時代のころです。そのきっかけとなったのが、1543年に（あ）に漂着したポルトガル人による鉄砲伝来でした。鉄砲は火縄銃と呼ばれて各地の戦国大名に注目され、近畿地方では刀鍛冶の職人によって大量の鉄砲が生産されました。鉄砲伝来の直後、1549年には（い）によってキリスト教も伝えられました。布教が各地に広がるほか、九州を中心とした各地の港では、ヨーロッパの国々との貿易も始まり、パン、カルタ、時計、印刷技術などが日本に伝わりました。この貿易を南蛮貿易といいます。

これらの新しい文化を受け入れながら勢力を大きくしてきたのが（う）です。（う）は鉄砲をたくみに使った戦法で、強力な戦国大名らを破ることに成功し、琵琶湖のそばには7階建ての安土城を建設しました。また（う）はキリスト教を保護し、貿易も有利に進めました。しかし、全国統一を目前にした1582年、家臣の明智光秀に裏切られ、本能寺で亡くなりました。

（う）のあとを継ぐため、すぐに立ち上がったのが家臣の羽柴秀吉です。秀吉は後継者争いに勝利したあと、（う）が成しえなかった九州や関東、東北まで支配を広め、①1590年には全国統一を果たしました。その間、豊臣の姓を天皇からもらい、支配のしくみも整え、②全国的に土地面積や収穫量を調べる太閤検地を行ったり、農民の一揆を防ぐために（え）を行いました。農民の土地を定め、武器を取り上げることで、武士と農民の区別がはっきりし、この身分のしくみはこのあとの時代にも受け継がれました。また秀吉は、海外との貿易には積極的でしたが、③キリスト教については危険だと考えていたため、宣教師を追放する法令を出したり、長崎のキリスト教徒を処刑するなどしました。しかし貿易は続けたため、キリスト教徒は増加していきました。全国統一を果たしたあとの秀吉は、中国の征服に乗り出します。まずは朝鮮半島に軍を送りましたが、④中国軍や朝鮮の民衆、水軍に苦戦し、おしもどされました。その後、二度目の出兵も行われましたが、秀吉が亡くなったため中断して日本に引きあげることになりました。

（う）と秀吉が活躍した時代は安土桃山時代と呼ばれ、約30年間ほどしか続きませんでした。彼らが受け入れた西洋を中心とした文化は日本の社会にも大きな変化を与え、⑤人びとの生活や文化は活気あふれるものになりましたといわれています。

(1) 文中の (あ) ~ (え) にあてはまる言葉を答えなさい。

(2) 下線部①について、写真1は統一の過程でこの年に攻め落とされた小田原城です。攻め落とされた時の、この城の城主は何氏ですか。



写真1

(3) 下線部②について、この検地にあわせて、税率は「二公一民」と定められました。「公」は国のこと、「民」は税をはらう農民のこととすると、農民は約何%の税をはらうことになりますか。正しいものを次のア~エの中から一つ選び、記号で答えなさい。

ア 約22% イ 約33% ウ 約55% エ 約66%

(4) 下線部③について、なぜ危険だと考えられていたのか、その理由を説明しなさい。

(5) 下線部④について、このときに朝鮮から連れてこられた人びとが、佐賀県で作り始めた陶磁器として正しいものを、次のア~エの中から一つ選び、記号で答えなさい。

ア 清水焼 イ 有田焼 ウ 瀬戸焼 エ 九谷焼

(6) 下線部⑤について、この説明として正しくないものを、次のア~エの中から一つ選び、記号で答えなさい。

ア 京都では、女性の出雲阿国がかぶき踊りを始めて人気を集めた。
イ 千利休は、わび茶という質素な茶道のあり方を完成させた。
ウ 絵画では、雪舟が中国で水墨画を学び、多くの作品を完成させた。
エ 城は力強く豪華につくられ、城の中心には天守閣が置かれた。

2

次の文章と別紙の地形図について、あとの問いに答えなさい。

九州の北の玄関口^{げん}に位置する①北九州市は政令指定都市の一つで、小倉が行政の中心となっています。JR小倉駅の北側は関門海峡^{きんもんかいきょう}につながる湾^{わん}になっていて、紫川^{むらさき}など数本の河川や運河が南から流れ込んでいます。

小倉の町は、これらの海や河川^{せん}を利用して作られた小倉城の城下町がその始まりです。小倉城は江戸時代に消失しましたが、紫川の西側は、②城跡^{しろあと}やおもに（あ）があった地域で西曲輪^{にしくわ}と呼ばれ、現在では市役所や大学、博物館など公共施設^しが数多くあります。紫川にかかる常盤橋^{とこわ}を渡った東側は、東曲輪^{ひがしくわ}と呼ばれた（い）で、今でも魚町^{いさや}、紺屋町^{かじ}、鍛冶町^{かじ}などの地名が残っています。ここには、わが国で一番最初にアーケードを持つ商店街が作られた魚町銀天街や③森鷗外^{おうがい}の旧居^{ほん}、南東には食料品や日用品などを販売する伝統的^{たん}な且過市場^かがあります。

性格^{ちが}の違う二つの町をつなぐ常盤橋は、江戸時代には「小倉の五街道」という南下する5つの幹線道路の出発点で、高度経済成長期まで経済的にも軍事的にも重要な地点でした。橋のたもとは、江戸後期に日本全図を作ったことで知られる（う）の九州測量の始発点を記念する顕彰^{けんしょう}碑^ひがあります。また一方で、北九州市は40年前までは紫川や洞海湾^{どうかい}の水質汚濁^{おたく}や大気汚染^{せん}に苦しんだ町でした。その反省からいち早く④「環境首都^{かん}」宣言をした都市として知られています。

JR小倉駅は、九州本線と新幹線が乗り入れ、南に向かってはほぼまっすぐに都市モノレール小倉線が伸びています。新幹線の線路は、九州本線の上を高架橋^かでまたぎ、西の上富野から関門トンネルとなって地下に入り約3.6 km先で本州側の下関に出ます。このトンネルの南には、⑤小文字山^{こもんじ}（標高366 m）があり、毎年8月13日に迎え火にあたる「小文字焼き」という行事が行われています。しかし、産業構造やエネルギー資源の変化や日本経済の影響^{えいきょう}などから、九州における北九州市の役割は大きく衰退^{すい}してきています。



写真1 復元された小倉城





写真2 復元された常盤橋

- (1) 文中の (あ) と (い) にあてはまる言葉として正しい組合せを、次のア～エの中から一つ選び、記号で答えなさい。

ア { あ：寺町 い：武家町 } イ { あ：寺町 い：町人町 }
ウ { あ：町人町 い：武家町 } エ { あ：武家町 い：町人町 }

- (2) 下線部②について、小倉城の城跡から見て JR 小倉駅はどの方位にありますか。図 1 をもとに八方位で答えなさい。

- (3) 図 1 に示した  の中に見られない地図記号を、次のア～エの中から一つ選び、記号で答えなさい。

ア 博物館 イ 神社 ウ 裁判所 エ 警察署

- (4) 下線部③について、森鷗外旧居と旦過市場の長さは、地図上で測ると 1.5 cm です。これは、実際の距離きょりにすると何 m ですか。計算して答えなさい。

- (5) 文中の (う) に当てはまる人名として正しいものを、次のア～エの中から一つ選び、記号で答えなさい。

ア 新井白石 イ 伊能忠敬ただたか ウ 水戸光圀みつくに エ 平賀源内

- (6) 下線部④について、水は世界共通の貴重な資源と言われますが、水に関する説明として正しいものを、次のア～エの中から一つ選び、記号で答えなさい。

ア 地球全体の海水と真水の割合は、海水が 50 % で、真水が 50 % である。
イ 北九州市では下水道がほとんど普及ふきゅうしておらず、整備が急がれている。
ウ 安全な水を飲むことができない国は、世界中にほとんどない。
エ 北九州市では、アジアの国々に水環境対策技術かんを教える研修を行っている。

- (7) 下線部⑤について、図 1 に示した小文字山山頂▲と青少年の家●との高さのちがいはおよそ何 m ありますか。

- (8) 次の写真3は図1に示した▲の頂上付近から撮影したものです。撮影した方向として正しいものを、図1中のア～エの中から一つ選び、記号で答えなさい。



写真3

- (9) 下線部①について、図2は北九州市のほか福岡市，熊本市，鹿児島市の1970年以降の人口推移を表したものです。この内、北九州市にあたるものを、図2のア～エの中から一つ選び、記号で答えなさい。

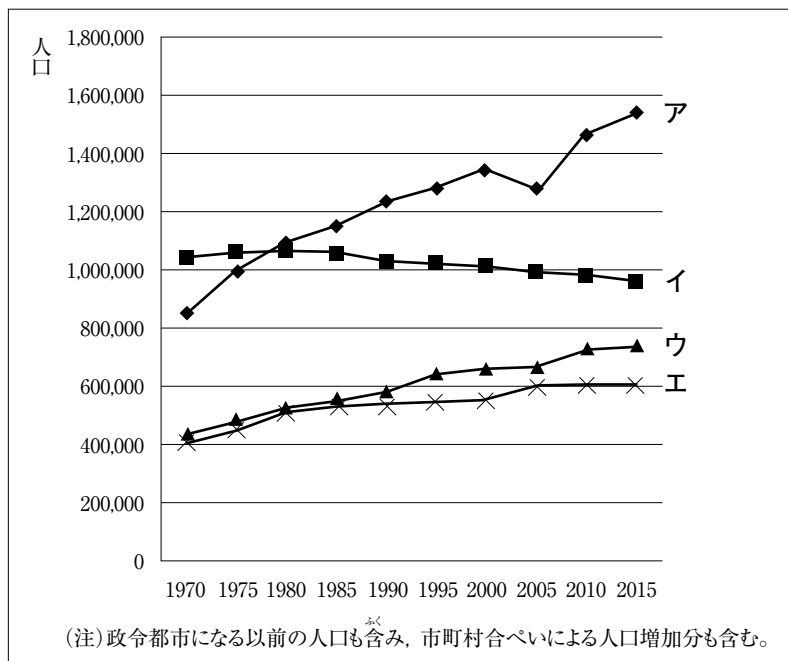


図2 九州各都市の人口推移



図1
2万5千分の1地形図
「小倉」より

(問題は次ページに続きます)

3 次の文章を読み、あとの問いに答えなさい。

1889年2月11日、天皇が国民に与えるという形で、 憲法が公布されました。この憲法では、天皇が国の元首として統治すると定められ、帝国議会の召集、解散や軍隊の指揮などが、天皇の権限とされました。そのため、国民の権利は制限され、衆議院議員の選挙権が与えられたのは、直接国税15円以上おさめる満(あ)歳以上の男子だけであったため、総人口の1.1パーセントの約45万人に過ぎませんでした。

その後、選挙法が数回改正されて、納税額による制限をやめて、1925年に(あ)歳以上の男子全員に選挙権が与えられました。これによって、有権者は20パーセントに増加し、政治に広く国民の意思が反映される道が開かれましたが、依然として女性と(あ)歳未満の男性は投票できませんでした。

しかし、第二次世界大戦後に行われた衆議院選挙で(い)歳以上の男女に選挙権があたえられ、有権者は49パーセントになりました。そして、1946年①11月3日に、日本国憲法が公布されました。

2016年に実施した参議院議員選挙から、選挙権は(い)歳から(う)歳に引き下げられました。②選挙は、国民が主権者としての権利を行使する大切な機会です。しかし、都市の人口集中と農山村の人口減少などが進み、人口の変動に合わせ議員定数や選挙区割りの変更が充分には行われていませんでした。そのため、いわゆるをめぐることがおこり、2015年には、一部見直しがされています。

(1) 文中のにあてはまる言葉を漢字5字で答えなさい。

(2) 文中の(あ)～(う)にあてはまる数字として正しいものを、次のア～オの中から選び、記号で答えなさい。

ア 16 イ 18 ウ 20 エ 25 オ 30

(3) 文中のにあてはまる言葉を答えなさい。

(4) 下線部①について、この日は、現在何と呼ばれる祝日ですか。

(5) 下線部②について、これは参政権と呼ばれる国民の権利です。国民の権利として正しくないものを、次のア～エの中から一つ選び、記号で答えなさい。

ア 働く人が団結する

イ 税金を払う

ウ 職業を選ぶ

エ 裁判を受ける

受 験 番 号	氏 名	得 点
*		

*印のところは、何も記入しないでください。

1	あ		い	
	(1)		え	
	う		(3)	
(2)				
(4)				
(5)		(6)		

小 計
*

2	(1)		(2)	
	(3)		(4)	m
	(5)		(6)	
	(7)	およそ	(8)	m
	(9)			

小 計
*

3	(1)				
	あ		い		
	(2)				
	う				
	(3)		(4)		
	(5)				

小 計
*

受験番号				氏名		得点	
						* 50	

*印のところは、何も記入しないでください。

1

(1)	あ	種子島	い	ザビエル
	う	織田信長	え	刀狩り
(2)	北条氏		(3)	エ
(4)	日本がヨーロッパの植民地となるおそれがあるから (支配されるおそれがあるから)			
(5)	イ		(6)	ウ

小計	
* 18	
2点×9	

2

(1)	エ	(2)	北 東
(3)	ウ	(4)	375 m
(5)	イ	(6)	エ
(7)	約290～310までの間	(8)	ア
(9)	イ		

小計	
* 18	
2点×9	

3

(1)	大 日 本 帝 国			
(2)	あ	エ	い	ウ
	う	イ		
(3)	一票の格差		(4)	文化の日
(5)	イ			

小計	
* 14	
2点×7	

合格者正解率

社会

第5回 2月5日 (%・50点満点)

1	1あ	1い	1う	1え	2	3	4	5	6
歴史分野	76.9	100	84.6	69.2	46.2	15.4	34.6	84.6	54
2	1	2	3	4	5	6	7	8	9
地理分野	38.5	53.8	92.3	53.8	100	53.8	7.7	76.9	61.5
3	1	2あ	2い	2う	3	4	5		
公民分野	100	92.3	100	100	23.1	38.5	38.5		

☆合格者平均点 31.9

☆合格者最高点 44